

COMUNIDADES AUTONÓMAS Y CIUDADES AUTONÓMAS

Nombre:

Apellido:

Fecha:

MARIA CONOCE DIFERENTES PAISES.

María conoce todos los países vecinos de España.

Cuando era niña emigró con sus padres a Francia y vivió allí durante dieciséis años. Por eso sabe hablar bien el francés.

Después volvió a España y conoció a un joven portugués. Se casó y estuvo viviendo durante diez años en Portugal. Allí nacieron sus dos hijas.

Ahora vive en España.

Le gusta viajar, y el año pasado estuvo de vacaciones en Marruecos durante quince días.

También le gusta la naturaleza, y de vez en cuando se va a Andorra a pasear por sus montañas.

Contesta a las preguntas:

¿Qué países vecinos de España conoce María?

¿En qué país ha pasado más tiempo?

¿De dónde es su marido?

¿Qué hace María en Andorra?



Los cuatro países más cercanos a España son: Francia, Andorra, Portugal y Marruecos.

Relaciona cada nombre de habitantes con su país:

- | | |
|---------------|-------------|
| ESPAÑOLES - | - FRANCIA |
| MARROQUIES - | - PORTUGAL |
| PORTUGUESES - | - ESPAÑA |
| ANDORRANOS - | - MARRUECOS |
| FRANCESES - | - ANDORRA |

¿DÓNDE ESTA ESPAÑA?

España está situada en el sur de Europa, en la Península Ibérica. También incluye las islas Baleares, en el mar Mediterráneo y las Islas Canarias en el Océano Atlántico. Y en el norte de África, cuenta con las ciudades de Ceuta y Melilla.

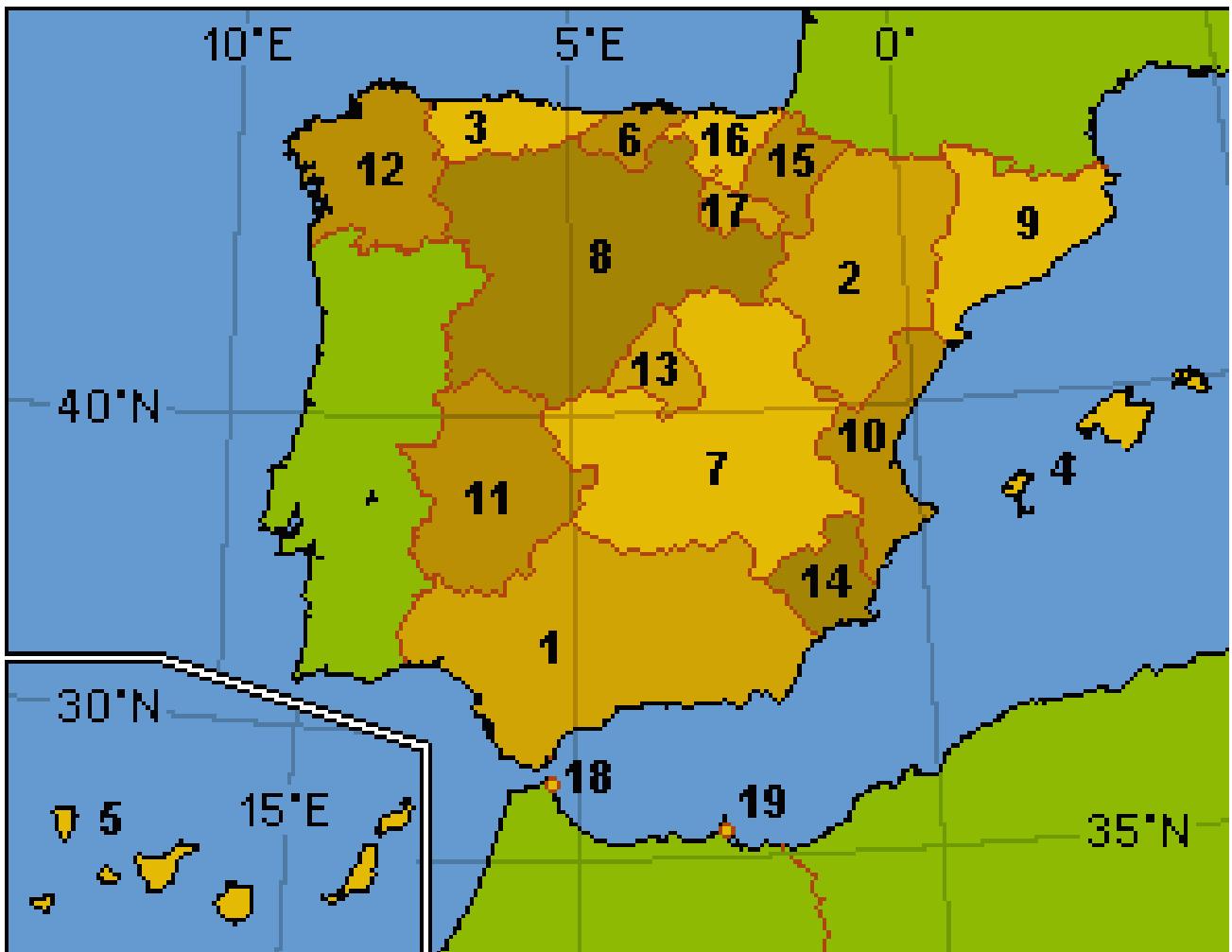
Las comunidades autónomas son la división de España de mayor extensión. Cada comunidad autónoma está compuesta por una o varias provincias. Cada Comunidad Autónoma tiene unas características geográficas, históricas y culturales propias.

La estructura del Estado español en Comunidades Autónomas se recoge en la constitución española de 1978. El Artículo 2 reconoce y garantiza el derecho a la autonomía de las nacionalidades y regiones que componen el Estado.



Los nombres oficiales de las 17 comunidades autónomas son:

- | | |
|--|--------------------------------|
| 1. Andalucía | 11. Extremadura |
| 2. Aragón | 12. Galicia |
| 3. Principado de Asturias | 13. Comunidad de Madrid |
| 4. Islas Baleares | 14. Región de Murcia |
| 5. Islas Canarias: (Las Palmas y Santa Cruz de Tenerife) | 15. Comunidad Foral de Navarra |
| 6. Cantabria | 16. País Vasco |
| 7. Castilla-La Mancha | 17. La Rioja |
| 8. Castilla y León | <i>Ciudades autónomas:</i> |
| 9. Cataluña | 18. Ceuta |
| 10. Comunidad Valenciana | 19. Melilla |



LAS ISLAS QUE FORMAN PARTE DE ESPAÑA

España tiene 2 Comunidades Autónomas que están formadas por Islas.

Unas son las “Islas Baleares”, que se encuentran en el Mar Mediterráneo, cuyas islas son: Mallorca, Menorca, Ibiza, Cabrera y Formentera.



Y las “Islas Canarias”, que se encuentran en el Océano Atlántico, cuyas islas son: Gran Canaria, Tenerife, La Palma, La Gomera, El Hierro, Fuerteventura y Lanzarote.

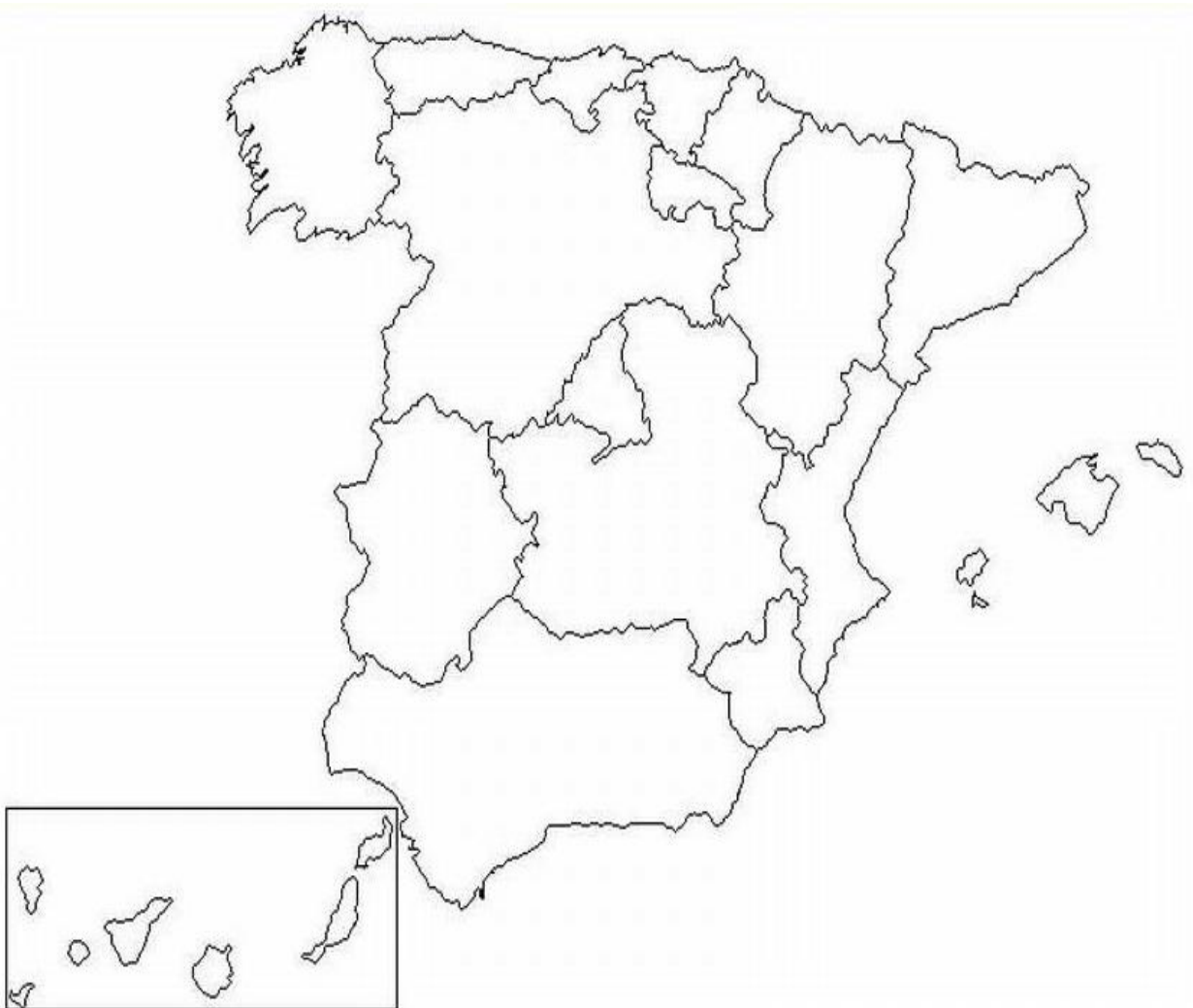


Responde a estas preguntas:

¿Qué islas forman las “Islas Baleares”?

¿Qué islas forman las “Islas Canarias”?

En el siguiente mapa de España, coloca el nombre de las diferentes comunidades autónomas que forman España:



LAS PROVINCIAS EN ESPAÑA

Las 17 comunidades autónomas que tiene España, están dividida cada una de ellas en provincias más pequeñas

En el siguiente mapa están todas ellas ¿Podrías pintar las provincias de cada comunidad autónoma, de distinto color?



Escribe en el siguiente mapa el nombre de las Provincias:



Contesta a las siguientes preguntas:

¿Cuántas comunidades autónomas hay en España?

¿Qué comunidades autónomas tienen solo 1 provincia?

En la costa norte de África se encuentran las ciudades autónomas

de..... y

¿Cuáles son las provincias de Castilla y León?

La Coruña, Lugo, Orense y Pontevedra forman parte de la comunidad

autónoma de.....

¿Cuáles son las provincias de Andalucía?

Las Islas Canarias están formadas por 7 islas llamadas

.....,

¿Cuáles son las comunidades autónomas que tienen 3 provincias?

Encuentra en esta sopa de letras las 50 provincias que forman España

W	M	T	N	T	Q	S	F	N	N	R	A	I	J	M	H	U	E	L	V	A	C	R	A	O	J	Y	Z
Q	D	D	I	V	I	D	U	P	E	O	V	O	D	C	F	N	J	R	E	C	T	A	Y	M	D	D	L
B	Q	A	I	M	N	W	M	P	Y	O	C	U	E	N	C	A	O	R	E	N	S	E	D	N	F	T	A
A	L	L	M	N	X	U	C	A	Y	C	A	S	T	E	L	L	O	N	Z	U	K	J	A	E	N	M	S
Z	A	I	S	I	E	S	D	L	R	U	M	N	N	Y	H	D	Y	S	A	Q	E	E	L	G	J	E	P
G	P	C	Z	Y	M	P	K	E	O	W	D	Q	A	P	T	C	L	F	R	R	P	P	M	U	Z	L	A
U	L	A	R	I	O	J	A	N	N	S	F	Q	V	S	A	L	A	M	A	N	C	A	E	A	Z	I	L
I	E	N	C	R	C	G	A	C	G	E	J	C	A	C	E	R	E	S	G	S	C	I	R	D	U	L	M
P	F	T	A	T	C	D	I	I	R	G	L	S	R	E	E	R	M	T	O	E	M	Y	I	A	P	L	A
U	S	E	N	A	N	X	P	A	A	O	N	S	R	S	T	O	A	A	Z	V	A	C	A	L	M	A	S
Z	S	D	T	D	S	U	D	F	A	V	A	C	A	H	C	T	D	U	A	I	L	F	E	A	U	U	I
C	A	E	A	H	U	E	S	C	A	I	R	D	C	N	H	O	R	O	C	L	A	E	T	J	R	K	L
O	L	I	B	I	S	L	A	S	B	A	L	E	A	R	E	S	I	U	E	L	G	H	T	A	C	G	M
A	A	I	R	B	O	E	M	N	Y	L	E	T	D	U	S	L	D	M	T	A	A	P	A	R	I	P	J
C	V	Y	I	E	W	X	Z	O	T	B	O	E	I	M	M	U	T	E	R	U	E	L	R	A	A	M	V
E	A	B	A	R	C	E	L	O	N	A	N	N	Z	X	S	G	N	D	T	U	O	J	R	N	E	B	A
U	G	O	D	C	M	E	O	L	T	C	A	E	D	O	O	O	I	T	X	A	R	U	A	N	D	A	L
T	G	R	A	N	A	D	A	A	O	E	P	R	B	U	R	G	O	S	X	T	E	E	G	V	R	D	L
A	S	T	U	R	I	A	S	C	L	T	J	I	A	V	I	L	A	B	P	T	R	F	O	I	C	A	A
G	C	O	R	D	O	B	A	O	E	E	V	F	U	V	A	L	E	N	C	I	A	P	N	D	F	J	D
E	U	D	U	X	A	Q	A	R	D	A	U	E	E	L	E	R	I	D	A	N	Y	F	A	J	Y	O	O
E	A	U	J	M	I	A	M	U	O	P	O	N	T	E	V	E	D	R	A	L	O	Y	S	H	S	Z	L
G	E	R	O	N	A	R	R	N	C	I	U	D	A	D	R	E	A	L	N	S	E	R	W	T	B	U	I
Z	A	M	O	R	A	K	Y	A	O	V	I	Z	C	A	Y	A	U	T	N	J	M	S	D	Z	F	A	D

COMUNIDADES AUTONOMAS, PROVINCIAS Y CAPITALES.

Como se ha visto antes, España está compuesta por 17 comunidades autónomas, y dentro de cada comunidad autónoma, están divididas en provincias, que puede haber desde 1 provincia hasta 9 provincias, como en el caso de Castilla y León.

La capital de España es Madrid, pero para poder facilitar las funciones del gobierno y de los habitantes de cada comunidad autónoma, cada comunidad autónoma tiene su propia capital.

En esas capitales se suele encontrar el gobierno de cada comunidad autónoma, elegido por los habitantes en las votaciones celebradas cada 4 años, también suele ser la ciudad con mayor número de habitantes, por lo que tiene muchos servicios para los ciudadanos, como colegios, hospitales, medios de transporte como estación de tren o aeropuerto, universidades o grandes centros comerciales.

En la siguiente tabla, esta especificada cada comunidad autónoma con su capital, y el número y nombre de provincias que tiene.

COMUNIDAD AUTONOMA	CAPITAL DE LA COMUNIDAD	NÚMERO DE PROVINCIAS	PROVINCIAS
Andalucía	Sevilla	8	Jaén, Córdoba, Sevilla, Huelva, Cádiz, Málaga, Granada y Almería.
Aragón	Zaragoza	3	Huesca, Zaragoza y Teruel.
Principado de Asturias	Oviedo	1	Asturias
Islas Baleares	Palma de Mallorca	1	Islas Baleares
Islas Canarias	Santa Cruz de Tenerife y Las Palmas de Gran Canaria por turnos.	2	Las Palmas y Santa Cruz de Tenerife.
Cantabria	Santander	1	Santander
Castilla y León	Valladolid	9	León, Palencia, Burgos, Zamora, Valladolid, Soria, Segovia, Salamanca y Ávila.
Castilla la Mancha	Toledo	5	Toledo, Ciudad Real, Cuenca, Guadalajara y Albacete.
Cataluña	Barcelona	4	Barcelona, Tarragona, Lérida y Gerona.
Ceuta	Ceuta	1	Ceuta
Extremadura	Mérida	2	Cáceres y Badajoz.
Galicia	Santiago de Compostela	4	La Coruña, Lugo, Orense y Pontevedra.
Madrid	Madrid	1	Madrid
Melilla	Melilla	1	Melilla
Región de Murcia	Murcia	1	Murcia
Comunidad Foral de Navarra	Pamplona	1	Navarra
La Rioja	Logroño	1	La Rioja
Comunidad Valenciana	Valencia	3	Castellón de la Plana, Valencia y Alicante.
País Vasco	Vitoria	3	Álava, Guipúzcoa y Vizcaya.

Rodea la Provincia incorrecta:

- La Coruña, Lugo, Teruel y Pontevedra
- Castellón de la Plana, Valencia y Álava
- Zamora, Ciudad Real, Cuenca, Guadalajara y Albacete
- Jaén, Córdoba, Sevilla, Huelva, Santander, Málaga, Granada y Almería
- León, Cáceres, Burgos, Zamora, Valladolid, Soria, Segovia, Salamanca y Ávila.
- Huesca, Barcelona y Teruel

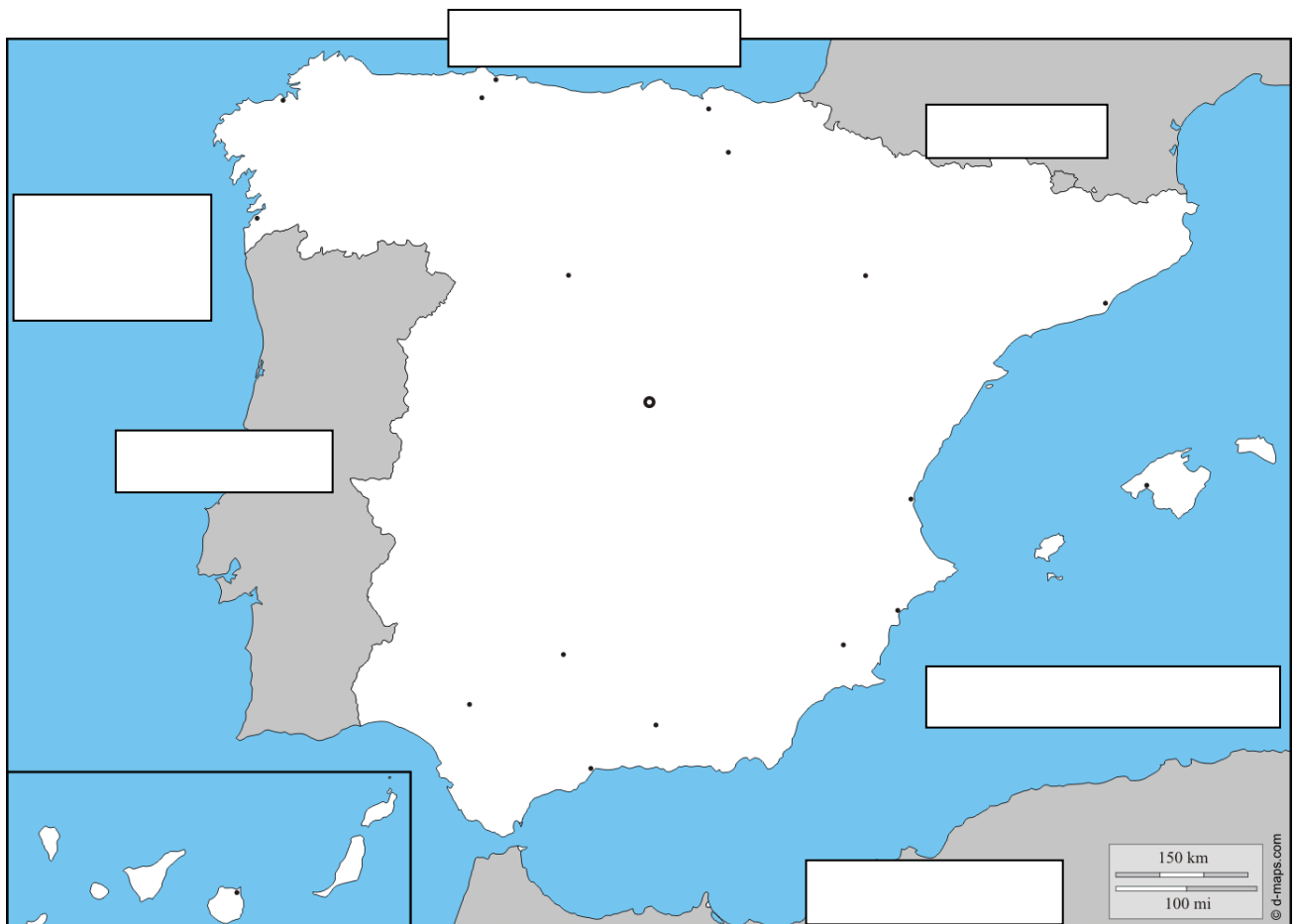
LA GEOGRAFIA ESPAÑOLA

España limita con 3 países: Francia, Portugal y Marruecos. Casi toda la Península Ibérica está rodeada por agua, por lo que España limita con un océano y dos mares.

- Al norte con el Mar Cantábrico.
- Al Este con el Mar Mediterráneo.

Al Oeste con el océano Atlántico.

Completa los cuadros del mapa.



-Lee con atención y rodea la respuesta correcta.

1. El Principado de Asturias limita al Norte con...
 - a) el océano Atlántico
 - b) el mar Mediterráneo
 - c) el mar Cantábrico

2. La Región de Murcia limita al Este con...
 - a) el Mar Mediterráneo
 - b) el océano Atlántico
 - c) el mar Cantábrico

3. ¿Cuántas comunidades autónomas hay en España?
 - a) 7
 - b) 17
 - c) 27

4. En la costa norte de África se encuentran las ciudades autónomas de Ceuta y...
 - a) Almería
 - b) Melilla
 - c) Cádiz

5. ¿En qué comunidad autónoma están las islas de Mallorca, Menorca e Ibiza?
 - a) Canarias
 - b) Islas Baleares
 - c) Islas Cíes

6. La comunidad canaria tiene dos capitales: Las Palmas de Gran Canaria y...
 - a) Santa Cruz de la Palma
 - b) Palma de Mallorca
 - c) Santa Cruz de Tenerife

7. ¿Qué comunidad autónoma forman Alicante, Castellón y Valencia?
 - a) Principado de Asturias
 - b) Asturias
 - c) Comunidad Valenciana

8. ¿De qué comunidad autónoma es capital Valladolid?
 - a) Canarias
 - b) Castilla y León
 - c) Castilla La Mancha

9. La capital de Castilla La Mancha es...
 - a) Ciudad Real
 - b) Toledo
 - c) Guadalajara

10. La capital de la comunidad autónoma de Cantabria es...
- a) Oviedo
 - b) Palma de Mallorca
 - c) Santander
11. ¿En qué comunidad autónoma se encuentra la ciudad de Pamplona?
- a) Comunidad de Aragón
 - b) Comunidad de Madrid
 - c) Comunidad Foral de Navarra
12. ¿De qué comunidad autónoma es capital Sevilla?
- a) Andalucía
 - b) Extremadura
 - c) Galicia
13. Barcelona es la capital de la comunidad autónoma de...
- a) Comunidad Valenciana
 - b) Cataluña
 - c) Cantabria
14. ¿Cuál de estas provincias no está en la comunidad autónoma de Galicia?
- a) A Coruña
 - b) Cáceres
 - c) Pontevedra
15. ¿Cuántas provincias componen la comunidad autónoma de Extremadura?
- a) 2
 - b) 3
 - c) 4
16. Huesca, Zaragoza y Teruel forman parte de la comunidad autónoma de...
- a) Cataluña
 - b) País Vasco
 - c) Aragón
17. ¿En qué comunidad autónoma se encuentra la ciudad de Logroño?
- a) La Rioja
 - b) Castilla y León
 - c) País Vasco