

El mapa de Barbastro



Alumno-a:

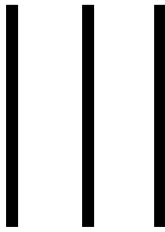
En el mapa de Barbastro están representadas todas las calles de la ciudad.

También podemos encontrar el nombre de los distintos barrios, y de los lugares más importantes.

En los mapas hay dibujadas unas líneas verticales y horizontales para localizar todos esos sitios de interés.

- *Las líneas verticales las dibujamos desde arriba hacia abajo.*

Dibuja tú más líneas verticales



- *Las líneas horizontales las dibujamos desde la izquierda hacia la derecha.*

Dibuja tú más líneas horizontales



- Las líneas verticales y horizontales, al cruzarse forman unos cuadros. En la izquierda del mapa los cuadros están numerados.

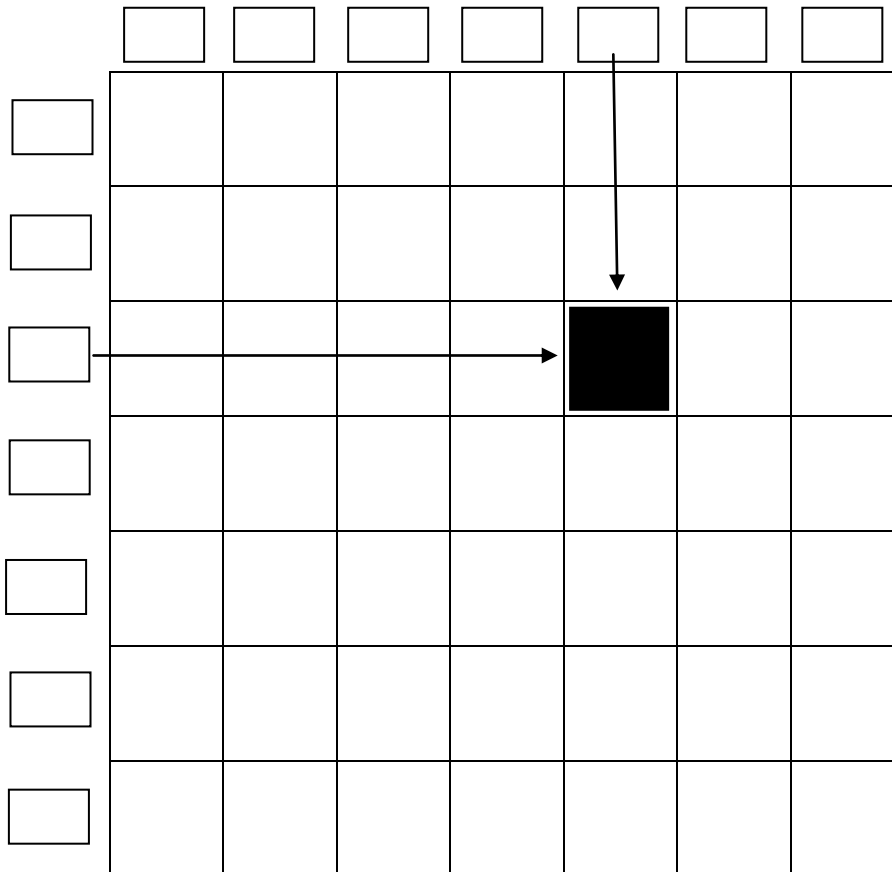
En la parte superior, los cuadros tienen letras



Repasamos las letras del alfabeto, léelas y cópialas debajo:

A B C Ch D E F G H I J K L L I M N Ñ O P Q R S T U V W X Y Z

- Escribe tú las letras y los números como están en el mapa de Barbastro.



- Podemos nombrar un cuadrado cualquiera combinando una letra con un número. Así en la rejilla anterior, el cuadrado negro se llama E 3

Pinta de color verde el cuadrado A 1
 Pinta de color azul el cuadrado G 7
 Pinta de color rojo el cuadrado G 1
 Pinta de color amarillo el cuadrado A 7
 Pinta de color marrón el cuadrado C 5
 Pinta de color naranja el cuadrado E 6
 Pinta de color lila el cuadrado D 3

- En la siguiente cuadrícula pinta de rojo los siguientes cuadrados :

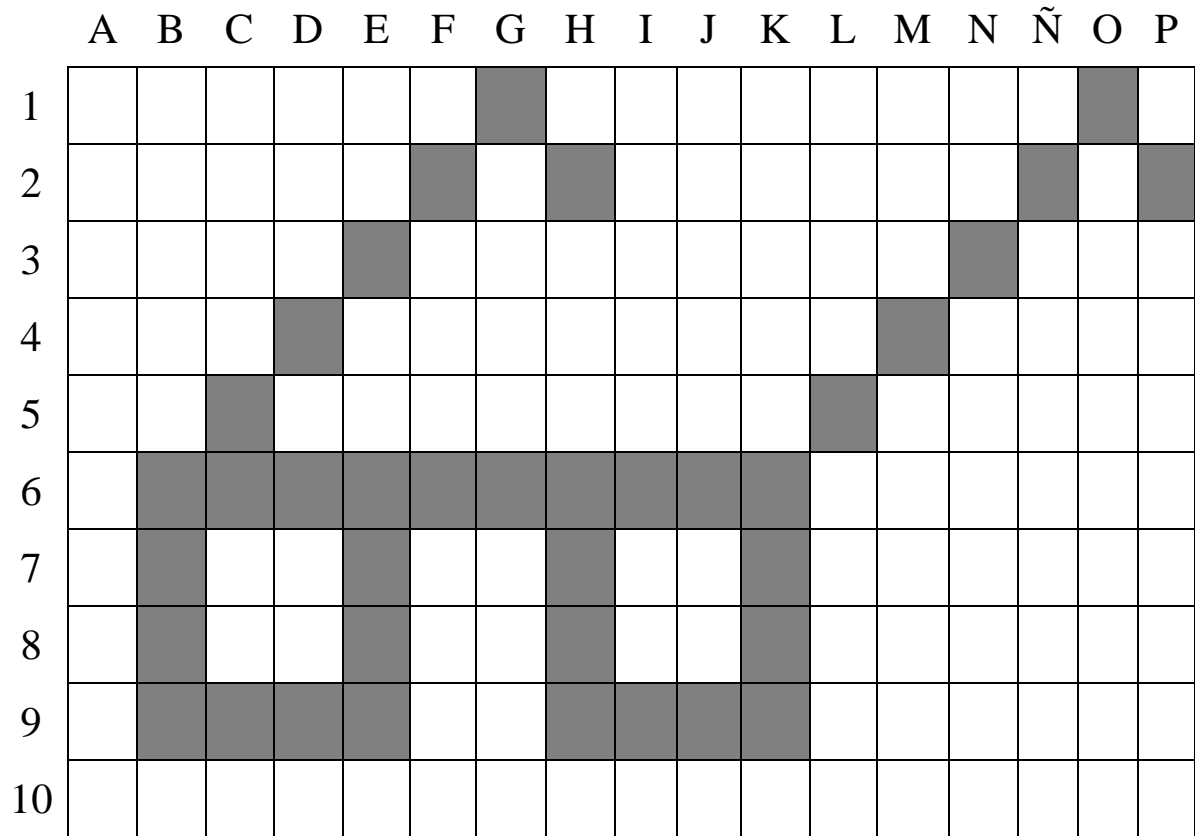
A7, B7, B8, C9, D8, D9, E9, F2, F3, F4, F5, F6, F7, F8, F9, G2, G3, G4, G9, H2, H3, H4, H9, I2, I3, I4, I7, I8, J7

	A	B	C	D	E	F	G	H	I	J
1										
2										
3										
4										
5										
6										
7										
8										
9										
10										

- ¿Qué has formado con los cuadrados?
-

- Escribe si te ha resultado fácil o difícil hacer este ejercicio.
-
-

- ¿Qué representa el dibujo de la siguiente cuadrícula?



- Escribe el nombre de las casillas que han sido coloreadas para hacer este dibujo, tacha las cuadrículas a medida que las vas nombrando

 B6, _____

Vamos a encontrar en el mapa las farmacias que hay en Barbastro.

- Mira la leyenda del mapa de Barbastro.
- Marca el símbolo de Farmacia en la Leyenda de tu mapa.



- Localiza en tu mapa las farmacias. Para ayudarte tienes aquí los cuadrados donde se encuentran:

D3, E3, F3, E2, D4 (aquí hay dos)

Escribe la calle en la que están:

Farmacias de Barbastro:

Escribe a continuación las otras cosas que aparecen en la Leyenda del mapa.

Completa la siguiente tabla sumando los números de las columnas con los de las filas

+	0	1	2	3	4	5	6	7	8	9	10
0	0										
1		2									
2			4								
3				6							
4					8						
5						10					
6							12				
7								14			
8									16		
9										18	
10											20

¿qué dos números iguales hay que sumar para que el resultado sea 4?

¿qué dos números iguales hay que sumar para que el resultado sea 10?

¿Qué dos números iguales hay que sumar para que el resultado sea 20?

¿Qué números sumados entre sí de dos en dos, nunca suman más de 10?

Los barrios de Barbastro.

Mira el plano de Barbastro y escribe a continuación el nombre de los barrios de Barbastro.

Busca en el mapa los siguientes lugares, y escribe la cuadrícula en donde se encuentran:

Catedral _____

Piscinas municipales _____

Estación de Autobuses _____

Ayuntamiento _____

Ambulatorio _____

Escribe aquello que te gustaría hubiera en Barbastro, pero ahora no hay.
